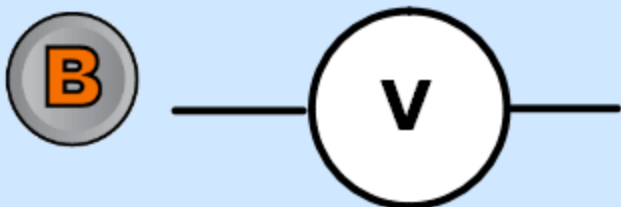
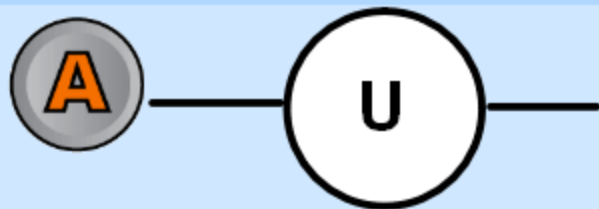




1) Quel est le symbole normalisé du voltmètre ?





2) Quel montage permet la mesure de la tension aux bornes de la lampe ?

A



B



C

Autre réponse



3) Afin de mesurer une tension positive, il faut :



A inverser les branchements aux bornes du voltmètre

B choisir un plus grand calibre

C choisir un plus petit calibre





4) Observer l'écran ci-dessous. Quelle erreur a été commise ?



A Le calibre choisi est trop grand

B Le calibre choisi est trop petit

C autre possibilité





Sur quel calibre le sélecteur est il placé ?

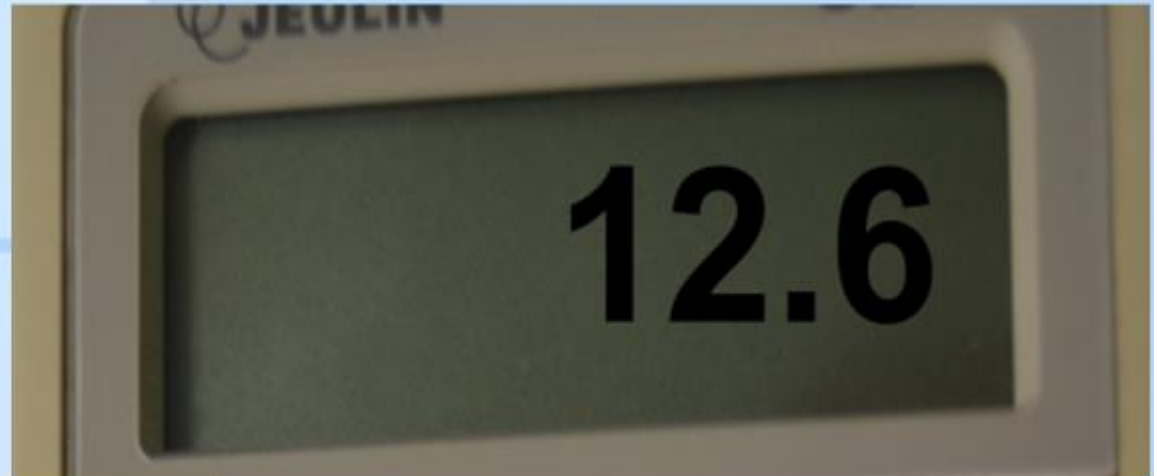


A 600 V

B 200 V

C 20 V

D 2 V





6) Quelle est la valeur de la tension mesurée ?



A $U = 5,2$

B $I = 5,2 \text{ V}$

C $U = 5,2 \text{ V}$

D Autre possibilité

